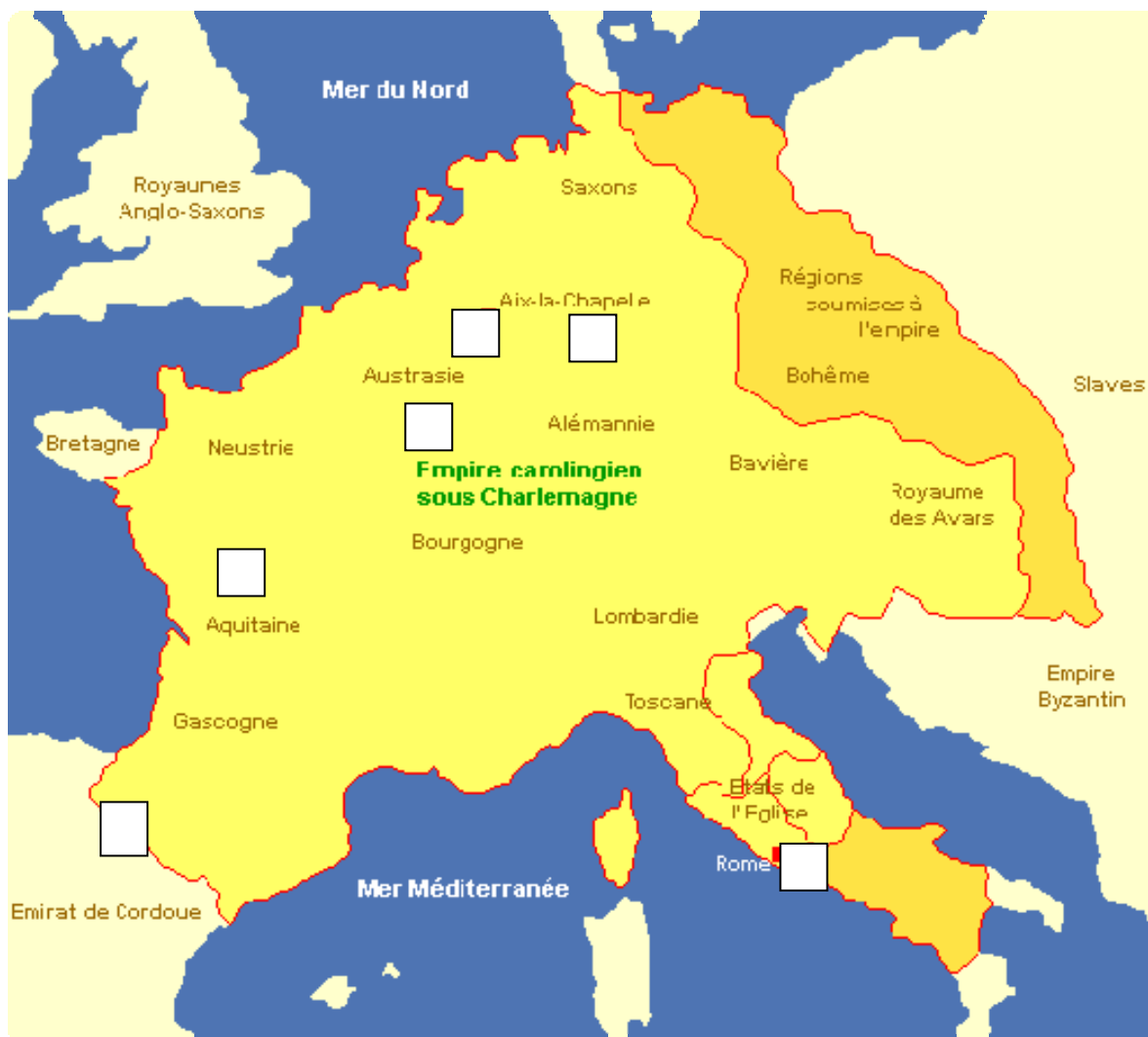


Le traité de Verdun : de Charlemagne à l'Europe Parcours pédagogique


Sur cette carte, replace au bon endroit ces événements de la dynastie carolingienne :

- A. Le couronnement de Charlemagne
- B. Victoire de Charles Martel contre les armées arabes
- C. La signature du traité de partage de l'Empire de Charlemagne entre ses petits-fils
- D. La construction du palais impérial de Charlemagne
- E. La mort de Roland, neveu de Charlemagne
- F. Soumission du chef saxon Widukind
- G. Concile marquant la fin de l'iconoclasme (destruction des images)



Sur cette frise, replace ces événements en face des bonnes dates. Attention, la frise de l'exposition se lit de la droite vers la gauche, ce qui est contraire à l'usage habituel mais nécessaire pour que la scénographie de l'exposition soit cohérente. Dans le document ci-dessous, la frise a été réorientée dans le « bon » sens.

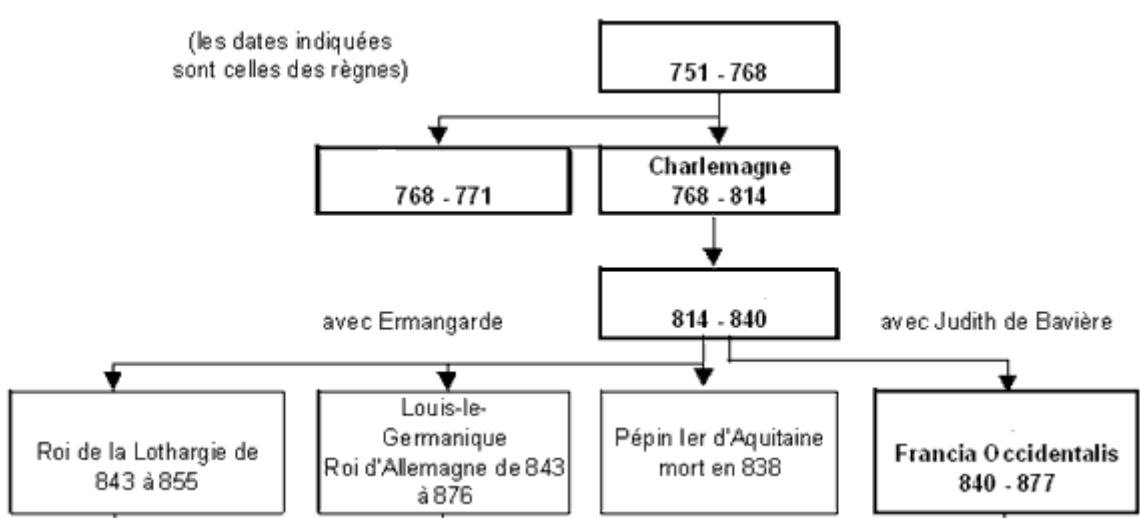
- A. Charlemagne devient roi
- B. Couronnement de Charlemagne
- C. Mort de Charlemagne
- D. Pépin le Bref roi des Francs
- E. Traité de Verdun
- F. Naissance de Charlemagne
- G. Concile (assemblée d'évêques) de Nicée



Avant qu'il devienne roi, quel était le titre officiel de Pépin le Bref ?

- Maire du Palais
- Main du Roi

Voilà l'arbre généalogique des premiers Carolingiens. Remplace dans cet arbre les noms suivants : Carloman (frère de Charlemagne), Charles le Chauve, Pépin le Bref, Lothaire Ier et Louis le Pieux



Combien Charlemagne a-t-il eu de femmes et d'enfants légitimes ?

Pourquoi dit-on que Charlemagne avait une « barbe fleurie » ?

Quel était le surnom de l'épée de Charlemagne ?

Cite le nom de deux attributs (objets) qui symbolisent les pouvoirs de Charlemagne.

Le grand nombre de création d'écoles sous le règne de Charlemagne a conduit, à tort, à dire qu'il avait « inventé » l'école. Sous son règne, à qui ces écoles sont-elles surtout destinées ?

- à des laïcs
- à des ecclésiastiques

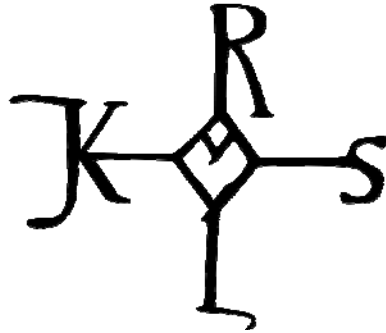
A l'époque carolingienne, la Catalogne était un centre important d'enseignement scientifique. Grâce aux connaissances transmises par quelle civilisation ?

Au Moyen-âge, par exemple à l'époque de Charlemagne, les églises étaient richement décorées avec des scènes tirées des histoires de la Bible. A quoi servaient ces images ?

Les monastères de l'époque carolingienne ont mis au point une nouvelle écriture très soignée et facile à lire, que l'on appelle la caroline, en hommage à Charlemagne, en voici un alphabet :

a b c d e f g h i j k l m
n o p q r s t u v w x
x x y z & ! ?
A B C D E F G H I J
K L M N O P Q R S
T U V W X Y Z
1 2 3 4 5 6 7 8 9 0

Amuse-toi à écrire ton nom en lettres carolines :



Quel est l'homme célèbre dont le nom se cache dans ce monogramme (emblème qui réunit plusieurs lettres pour représenter une personne) ?

A l'époque carolingienne, les deux familles linguistiques dominantes sont les langues germaniques et les langues romanes. Sur le panneau intitulé « Les langues de l'Empire de Charlemagne », le début de la prière du Notre Père est traduit en plusieurs langues parlées dans l'Empire. Parmi elles, identifie un exemple :

- de langue germanique :

- de langue romane :

Aujourd'hui, l'anglais sert de langue de communication internationale. A l'époque de Charlemagne, quelle langue permet à tous les clercs de communiquer entre eux ?

Jusqu'au concile de Tours de 813, l'intégralité de la messe était dite en latin. A partir de cette date, l'homélie, c'est-à-dire le commentaire des textes de la Bible par le prêtre, se fait en langue vulgaire. Qu'est-ce que cela signifie ?

- que le prêtre utilise des gros mots pour amuser son auditoire
- que le prêtre prononce son homélie en langue parlée afin d'être compris de tous

Observe l'image qui illustre le panneau intitulé « L'économie de l'Empire de Charlemagne ». C'est un calendrier. Qu'utilise-t-il pour représenter les mois de l'année ? Pour quelle raison, à ton avis ces images sont-elles des repères chronologiques évidents pour beaucoup de personnes ?

A partir du règne de Pépin le Bref, que peut-on lire sur les pièces de monnaie ? Par contre, que n'y voit-on pas encore, qui sera présent par la suite ?

Au Moyen-âge, Verdun était un centre commerçant important. Quelle était la marchandise qui faisait la réputation de la ville ?

- les esclaves
- les vins et spiritueux

La carte du partage de son Empire entre ses fils, tel que Charlemagne l'avait prévu, correspond-elle à celle du partage de Verdun entre ses petits-fils ? Pourquoi ce partage entre les fils de Charlemagne n'a-t-il pas eu lieu ?

En 841, à Fontenay-en-Puisaye, Louis de Bavière et Charles le Chauve opposent leurs armées à celle de Lothaire lors d'un jugement de Dieu ? Qu'est-ce que cela signifie ?

- qu'ils demandent au pape de jouer un rôle d'arbitre
- que celui qui remporte le combat obtient satisfaction

En quelles langues a été écrit le Serments de Strasbourg ? Pour quelle raison ?

Dans le quartier du Faubourg, un endroit est appelé la « cour des trois rois », de quels rois s'agit-il ?

Voilà une carte de l'Europe politique en 1957, au moment du traité de Rome.



A quelle carte de l'exposition ressemble-t-elle ?

Le traité de Verdun est-il à l'origine de la rivalité entre la France et l'Allemagne qui a conduit les deux pays à se faire plusieurs fois la guerre ?